

نام و نام خانوادگی:

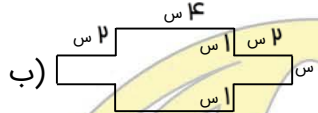
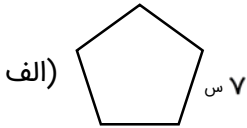
خانه ریاضیات غرب تهران

تحصیلات تحقق رویایی شیرین...

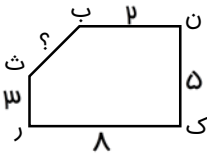


سری پنجم سوالات ریاضی سوم

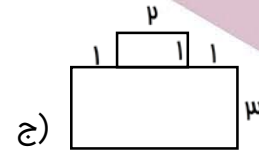
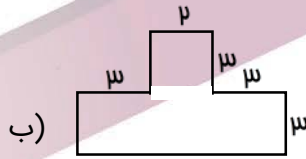
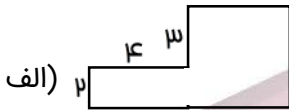
۱- محیط شکل‌های زیر را به دست آورید.



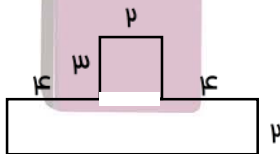
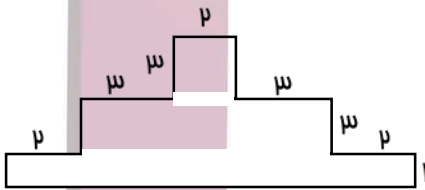
۲- محیط شکل مقابل ۲۲ سانتی‌متر است. اندازه ضلع (ب) چند سانتی‌متر است؟



۳- مساحت هر یک از شکل‌های زیر را محاسبه نمایید.



۴- مساحت شکل‌های زیر را به دست بیاور. (همه‌ی واحدها به سانتی‌متر هستند).



خانه ریاضیات غرب تهران

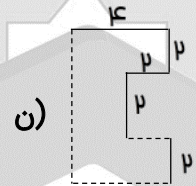
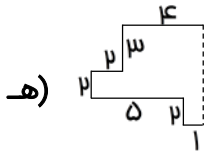
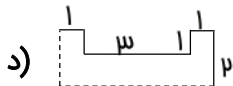
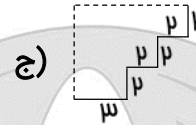
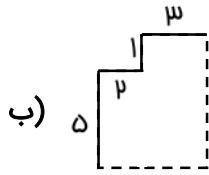
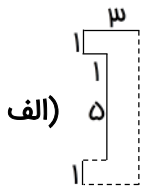
۴۴۰۵۱۳۳۶
۴۴۹۶۶۸۶۲
۴۴۹۶۶۸۶۳

WWW.OLOMFONOON.COM
WWW.OLOMFONOON.IR
پیامک: ۳۰۰۰۸۸۱۰۰۵۱۳۳۶

آدرس: فلکه دوم صادقیه - ابتدای محمد علی جناح - نبش کوچه
طاهریان سرای محله فردوس - طبقه دوم - خانه ریاضیات غرب تهران



۵- ابتدا اندازه‌ی ضلع‌هایی که داده نشده است (خط‌چین) را پیدا کن، سپس با نوشتن یک جمع، محیط شکل‌های زیر را پیدا کن. (همه‌ی واحدها به سانتی‌متر هستند.)



۶- طول زمین مستطیل شکلی ۹ متر و عرض آن ۸ متر است. اگر بخواهیم دور تا دور این زمین را دیوار بکشیم، چند متر دیوار باید بکشیم؟

۷- در جاهای خالی، اعداد مناسب بنویسید.

- ۷۹۶ سانتی‌متر = متر و سانتی‌متر.
- سانتی‌متر = ۵ متر و ۲۹ سانتی‌متر.
- ۹۰۰۰ گرم = کیلوگرم.
- ۷ کیلوگرم و ۳۵۰ گرم = گرم.
- ۶ کیلومتر و ۴۲۰ متر = متر.
- ۳۵۰۰ متر = کیلومتر و متر.
- ۵۷۰۰ گرم = کیلوگرم و گرم.
- کیلوگرم و گرم = ۳۰۲۰ گرم.

۸- مانی ۵ سال دارد. پدرش از ۴ برابر سن او ۵ سال بزرگ‌تر است و مادرش از ۵ برابر سن او ۴ سال کوچک‌تر است. این سه نفر روی هم چند سال سن دارند؟

۹- اگر از ۹ برابر عدد ۲، ۴ واحد کم کنیم، چه عددی به دست می‌آید؟