

خانه ریاضیات غرب تهران

تحصیلات تحقق رویایی شیرین...




سری اول سوالات ریاضی چهارم - ورودی پانز



۱ یک سازندهی لوح های فشرده کامپیوتری (سی دی) ۶۵۷۰ لوح فشرده تولید کرده است. او می خواهد بین ۳ شرکت آن ها را تقسیم کند. اگر قیمت هر لوح ۳۰۰ تومان باشد به هر شرکت چند لوح می رسد؟ او از هر شرکت چه مبلغی باید بگیرد؟

۲ یک اتوبوس در مدت ۷ ساعت ۵۰۴ کیلومتر راه را طی می کند. این اتوبوس به طور متوسط در هر ساعت چند کیلومتر راه را طی می کند؟

۳ این مغازه دار برای این که لباس های هم قیمت را کنار هم بگذارد از شما کمک می خواهد. لباس هایی را که خارج قسمت آن ها یکسان است را مثل هم رنگ آمیزی کنید. (تقسیم ها را داخل هر لباس نوشته و حاصل را به دست آورید.)



۴ پزشکان می گویند استفاده بیش از اندازهی نمک برای انسان ضرر دارد. اگر هر بار استفادهی بیش از حد، تقریباً ۱۸۳ دقیقه از عمر انسان را کم کند. در ۱۱ بار استفاده به طور تقریبی چند دقیقه از عمر کم می شود؟



خانه ریاضیات غرب تهران

تحصیلات تحقق رویایی شیرین...





۵- در یک اردوگاه ورزشی ۲۳۴۰ ورزشکار تمرین می کنند. در اردوگاه ۳۸۷ چادر ۶ نفره برپا شده است.

الف. آیا این تعداد چادر برای همه‌ی ورزشکاران کافی است؟

ب. اگر نه، چند چادر دیگر باید گذاشته شود؟

۶- خارج قسمت تقسیم‌های زیر را به دست آورید.



۷- تقسیم‌های زیر را انجام دهید و برای هر کدام رابطه‌ی تقسیم را بنویسید.

$$78 \overline{) 4}$$

$$47 \overline{) 6}$$

$$39 \overline{) 3}$$

$$87 \overline{) 2}$$

۸- در یک کارخانه روزانه ۱۲۰ کارتن بیسکویت تولید می شود. اگر هر کامیون گنجایش ۶۰۰

کارتن را داشته باشد، پس از ۲۰ روز چند کامیون بار زده شده است؟

۹- مدرسه‌ی روزبه می خواهد بچه‌ها را به اردوی تفریحی ببرد، برای این اردو ۶ اتوبوس ۴۲ نفره،

۳ مینی بوس ۱۸ نفره و ۴ خودروی ۴ نفره در نظر گرفته شده است. آیا می توان با این وسایل نقلیه

۳۱۵ دانش آموز و ۶ مربی را به اردو برد؟

۴۴۰۵۱۳۳۶
۴۴۹۶۶۸۶۲
۴۴۹۶۶۸۶۳

WWW.OLOMFONOON.COM
WWW.OLOMFONOON.IR
پیامک: ۳۰۰۰۸۸۱۰۰۵۱۳۳۶

آدرس: فلکه دوم صادقیه - ابتدای محمد علی جناح - نبش کوچه
طاهریان سرای محله فردوس - طبقه دوم - خانه ریاضیات غرب تهران