

نام و نام خانوادگی:

خانه ریاضیات غرب تهران

تحصیلات تحقق رویایی شیرین...



سری دوم سوالات ریاضی چهارم ابتدایی - ورودی پاییز

۱- حاصل عبارات های زیر را به دست آورید.

از روش تکنیکی
 345×139

از روش تکنیکی
 910×500

از روش تکنیکی
 627×203

از روش فرآیندی
 $9547 \div 42$

از روش تکنیکی
 $8593 \div 31$

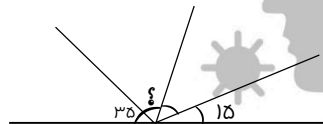
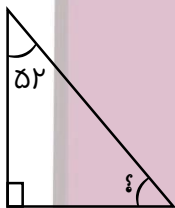
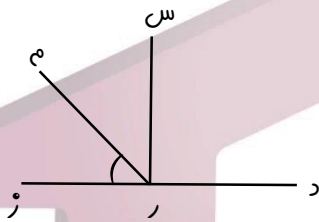
۲- در یک جعبه ۶ ردیف ۱۸ تایی کلاه چیده شده است. $\frac{3}{4}$ کل کلاه های داخل جعبه چند تا می شود؟

۳- هر زاویه تند از هر زاویه راست است.

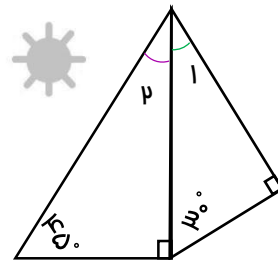
زاویه باز از زاویه تند است.

به زاویه های بزرگتر از زاویه راست، زاویه می گویند.

۴- در شکل مقابل زاویه "م ر د" 130° درجه است. زاویه "م ر ز" چند درجه است؟



۵- اندازه ی زاویه های خواسته شده را به دست آورید.



$\hat{1} =$
 $\hat{2} =$

خانه ریاضیات غرب تهران

۴۴۰۵۱۳۳۶
۴۴۹۶۶۸۶۲
۴۴۹۶۶۸۶۳

WWW.OLOMFONOON.COM
WWW.OLOMFONOON.IR
پیامک: ۳۰۰۰۸۸۱۰۰۵۱۳۳۶

آدرس: فلکه دوم صادقیه - ابتدای محمد علی جناح - نبش کوچه طاهریان سرای محله فردوس - طبقه دوم - خانه ریاضیات غرب تهران