

خانه ریاضیات غرب تهران

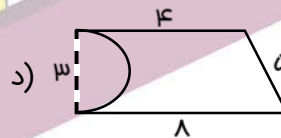
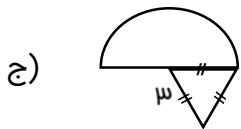
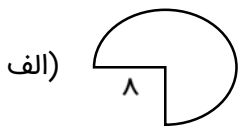
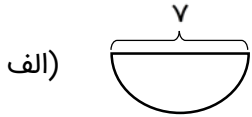
تحصیلات تحقق رویایی شیرین ...



نام و نام خانوادگی:

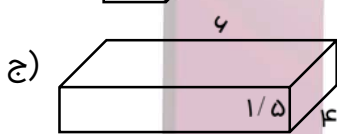
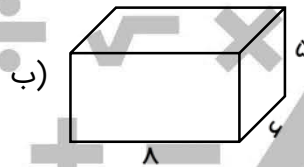
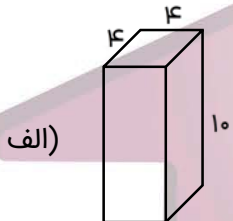
سری هشتم سوالات ریاضی پنجم

۱- محیط شکل‌های زیر را به دست آورید.

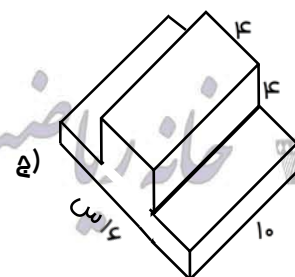
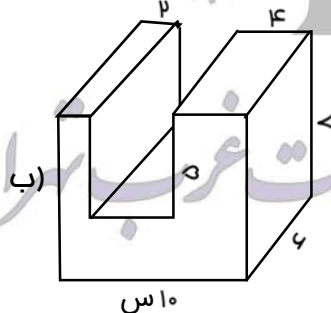
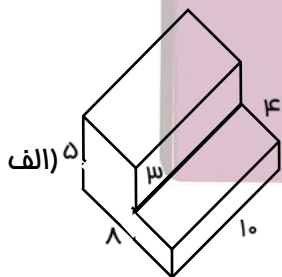


۲- محیط شکل‌های زیر را به دست آورید.

۳- حجم شکل‌های زیر را به دست آورید.



۴- حجم شکل‌های زیر را به دست آورید.






۵- یک کتاب به ابعاد ۳۰، ۲۰ و ۴ سانتی متر را درون جعبه‌ای به ابعاد ۴۰، ۳۵ و ۴۵ سانتی متر قرار می‌دهیم. فضای بین کتاب و جعبه چند سانتی متر مکعب است؟

۶- یک مکعب روبیک به ابعاد ۹ سانتی متر را در کشویی به ابعاد ۴۰، ۳۰/۵ و ۱۵ سانتی متر قرار دادیم. فضای باقیمانده‌ی «کشو»، چند سانتی متر مکعب است؟

۷- در یک اتاق به ابعاد ۴، ۳ و ۲ متر، می‌خواهیم جعبه‌هایی به ابعاد ۵۰، ۵۰ و ۲۰ سانتی متر قرار دهیم. چند تا از این جعبه‌ها در این اتاق جا می‌گیرد؟



خانه ریاضیات غرب تهران