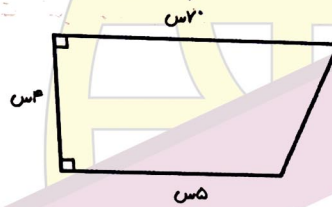
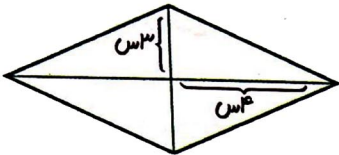
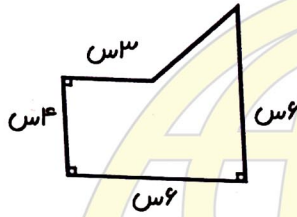
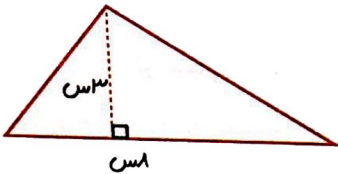


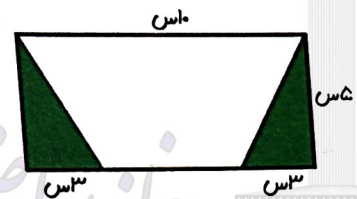
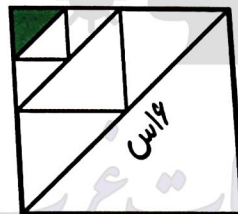
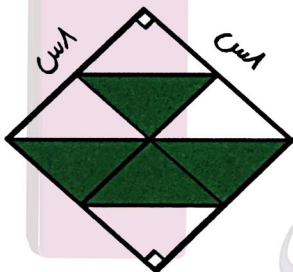
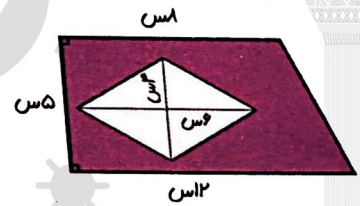
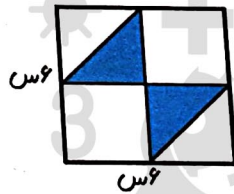
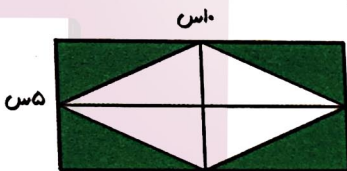
سوالات ریاضی بجم - سری نهم

1 مساحت هر یک از شکل های زیر را بنویسید.



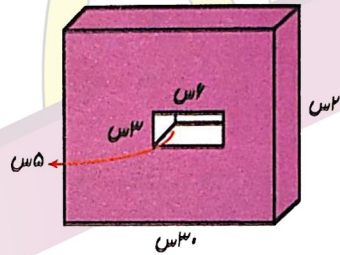
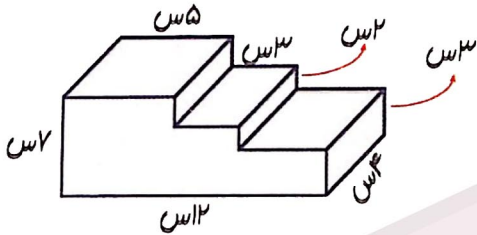
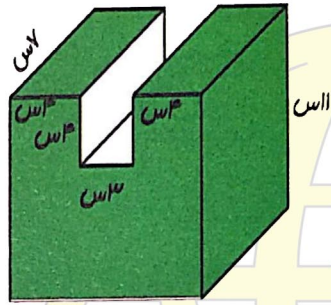
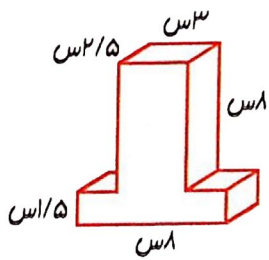
2 کف اتاق پرسان و جویان به شکل مستطیل است. اگر طول و عرض این مستطیل به ترتیب ۴ و ۳ متر باشد، برای پوشش آن به فرش چند مترمربعی نیاز است؟

3 در هر یک از شکل های زیر مساحت قسمت رنگی را به دست آورید.



4 محیط مربعی ۳۶ سانتی متر است. مساحت آن چند سانتی متر است؟

۵- حجم هر یک از شکل‌های زیر را بنویسید.



۶- ۴۰ درصد از حجم استخری به ابعاد ۸، ۶ و ۵ متر پر است. برای این که استخر به طور کامل پر شود، به چند متر مکعب

دیگر آب نیاز است؟

۷- گسترده‌ی مکعب مستطیلی به ابعاد ۷، ۵ و ۲ سانتی‌متر را در نظر بگیرید. مساحت این شکل چند سانتی‌متر مربع می‌شود؟

خانه ریاضیات غرب تهران