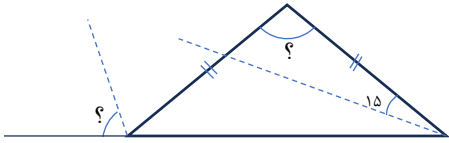
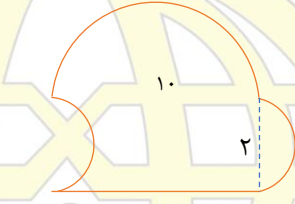
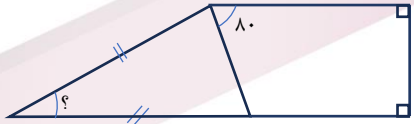
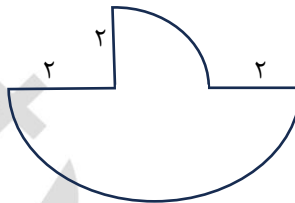
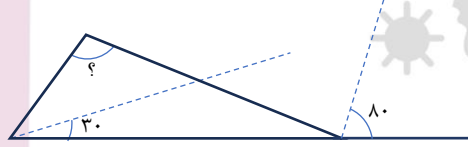


خانه ریاضیات غرب تهران

تحصیلات تحقق رویایی شیرین ...



تمرین هفته هفتم - ریاضی پنجم (خانم اصغری)

<p>جمعه</p>	<p>زاویه های خواسته شده را به دست آورید.</p>  <p>$(4/21 + 12/79) - 8/653 =$</p>	<p>محیط را به دست آورید.</p> 
<p>یکشنبه</p>	<p>زاویه های خواسته شده را به دست آورید.</p>  <p>$(1/6 \times 0/08) + 12 - 6/03 =$</p>	<p>محیط را به دست آورید.</p> 
<p>سهشنبه</p>	<p>زاویه های خواسته شده را به دست آورید.</p>  <p>از کوچک به بزرگ بنویسید.</p> <p>$\frac{1}{4}, \frac{3}{75}, 1\frac{1}{2}, \frac{2}{0.99}, \frac{26}{8}$</p>	<p>محیط را به دست آورید.</p> 