

تمرین هفته هشتم - ریاضی پنجم خانم اصغری (پنجشنبه)

دختر عزیزم، پسر گلم ☺

سوالات زیر رو در روز مشخص شده حل کنید، از پاسخ خودتون عکس بگیرید و در یکی از پیام‌رسان‌های "بله"، "ایتا" و یا "واتس‌آپ" به شماره **۰۹۱۲۳۴۶۲۷۰۹** ارسال نمایید.

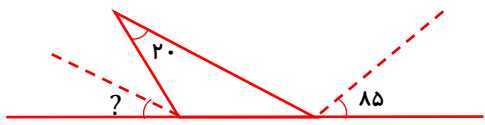
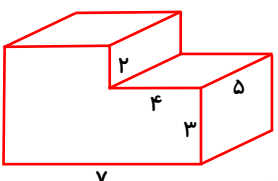

<p>(ب)</p>	<p>۱- زاویه خواسته شده را به دست آورید.</p> <p>(الف)</p>
<p>۳- محیط شکل زیر را به دست آورید.</p>	<p>۲- در جای خالی عدد مناسب بنویسید.</p> <p>(الف) $۱۳/۷ \times ۰/۶ + ۱/۰۷ - ۲/۰۰۹ = \square$</p> <p>(ب) $۳/۵۴۲۱ \times \square = ۳۵۴۲/۱$</p> <p>(ج) $۷۳۹۲۶ \times \square = ۷۳/۹۲۶$</p>
	<p>۴- حجم شکل زیر را به دست آورید.</p>

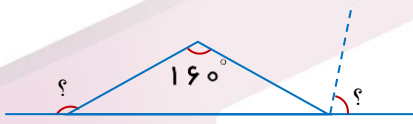
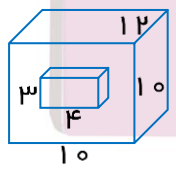
جمعه

خانه ریاضیات غرب تهران

تحصیلات تحقق رویایی شیرین...



<p>۱- زاویه خواسته شده را به دست آورید.</p> 	
<p>۲- در جای خالی عدد مناسب بنویسید.</p> <p>الف) $1\frac{3}{4} + 2/30 - 1/0.67 =$</p>	<p>دوشنبه</p> <p>ب) ۴۲ برابر است با تا ۰/۰۱ .</p> <p>ج) ۳۵۰ تا ۰/۰۱ برابر است با</p>
<p>۴- حجم شکل زیر را به دست آورید.</p> 	<p>۳- محیط شکل زیر را به دست آورید.</p> 

<p>۱- زاویه خواسته شده را به دست آورید.</p> 	
<p>۲- در جای خالی عدد مناسب بنویسید.</p> <p>الف) $7/750 - 2\frac{3}{4} + 1/256 =$</p> <p>ب) $4/25638 \square = 4256/3$</p>	<p>پنجشنبه</p> <p>ج) ۱۰۲۰ برابر است با تا ۰/۰۱ .</p>
<p>۴- حجم شکل زیر را به دست آورید.</p> 	<p>۳- محیط شکل زیر را به دست آورید.</p> 