

خانه ریاضیات غرب تهران

تحصیلات تحقق رویایی شیرین...



تمرین هفته نهم - دوم ابتدایی (یکشنبه) خانم فقیه کمالی

۱- حاصل جواب های زیر را به روش های خواسته شده حساب کنید.

$$\begin{array}{r} 524 \\ - 332 \\ \hline \end{array}$$

$$\begin{array}{r} 156 \\ + 421 \\ \hline \end{array}$$


$$\begin{array}{r} 700 \\ - 187 \\ \hline \end{array}$$

$$\begin{array}{r} 461 \\ + 229 \\ \hline \end{array}$$

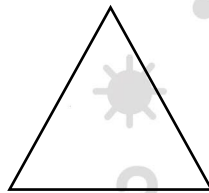
۲- عبارات زیر را گسترده نویسی کنید.

$$\begin{array}{l} 468 = \\ 210 = \\ 805 = \end{array}$$

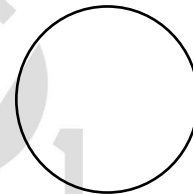
۳- رنگ کنید.



۳ قسمت از ۸ قسمت مساوی



۱ قسمت از ۴ قسمت مساوی



۳ قسمت از ۶ قسمت مساوی

۴- در یک کیسه ۱۳ مهره ابی و قرمز و سبز وجود دارد. اگر ۴ مهره ابی و ۳ مهره قرمز باشد به سوالات زیر پاسخ دهید.

..... مهره از ۱۳ مهره ابی است.

..... مهره از ۱۳ مهره سبز است.

اگر بخواهیم یک مهره از داخل کیسه برداریم احتمال کدام رنگ بیشتر است ؟ چرا؟