

تمرین هفته اول - ریاضی سوم

۱- مطالعه درسنامه صفحه ۵۷

۲- حل کار در منزل صفحه ۵۷

دختر عزیزم، پسر گلم (ع)

سوالات زیر رو در روز مشخص شده حل کنید، از پاسخ خودتون عکس بگیرید همراه با نام و نام خانوادگی و پایه دانش آموز در یکی از پیام رسانی های "بله"، "تلگرام" و یا "واتس آپ" به شماره ۰۹۱۲۳۳۴۶۲۷۰۹ ارسال نمایید.

(ترجیحا واتس آپ یا تلگرام (ع))

۱- یک قطار مسافربری ۶ واگن دارد و هر واگن ظرفیت ۱۰ مسافر را دارد.

الف) سه واگن از این قطار ظرفیت چند مسافر را دارد؟

ب) این قطار ظرفیت چند مسافر را دارد؟

۲- یک هتل آپارتمان ۶ طبقه دارد. بالاترین طبقه آن یک واحد دارد اما هر یک طبقه که پایین می آیم، ۲ واحد به تعداد واحدها اضافه می شود. در این ساختمان هر واحد ۵ تخت خواب دارد.

الف) در بالاترین طبقه چند تخت خواب وجود دارد؟

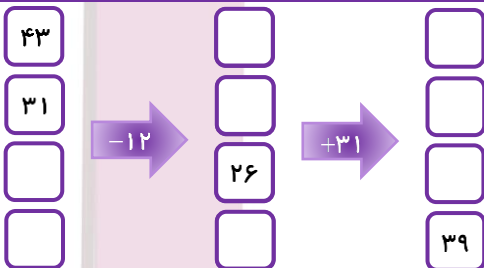
ب) در پایین ترین طبقه چند تخت خواب وجود دارد؟

پ) چه الگویی بین تعداد واحدها و تعداد طبقات این هتلها وجود دارد؟


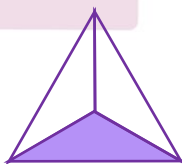
ت) چه الگویی بین تعداد تخت خوابهای طبقهها وجود دارد؟

پنجشنبه

۳- جاهای خالی را با عدد مناسب پر کنید.



۴- برای هر شکل کسر مناسب بنویسید.



خانه ریاضیات غرب تهران

تحصیلات تحقق رویایی شیرین ...



۱- مغازه‌داری نوعی شکلات را بسته ۵۰۰ تومان می‌خرد و ۶۰۰ تومان می‌فروشد.
الف) این مغازه‌دار ۴ بسته شکلات بفروشد، چقدر سود می‌کند؟

ب) چند بسته شکلات بفروشد تا ۷۰۰ تومان سود کند؟

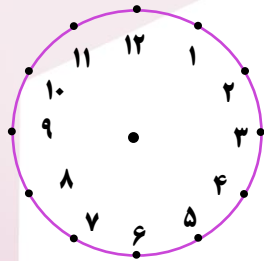
پ) چند بسته شکلات بفروشد تا با سود آن بتواند یک بسته شکلات بخرد؟

۲- امروز دوشنبه و سومین روز ماه است. تا آخر این ماه دوشنبه‌ها چه روزهایی از ماه هستند؟

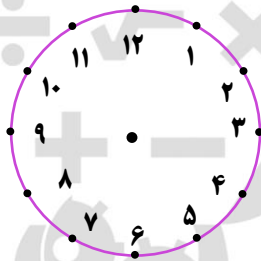
۳- ماهک روز جمعه ساعت ۹ از خواب بیدار شد و مطابق جدول زیر برنامه روز خود را تعیین کرد.

ساعت ۹	ساعت ۱	ساعت ۲	ساعت ۱	ساعت ۱	ساعت ۳	ساعت ۳	ساعت ۲
خواب	صرف صبحانه	مطالعه کتاب	تماشای تلویزیون	صرف نهار	انجام دادن تکالیف	بازی	رفتن به پارک با خانواده و صرف شام

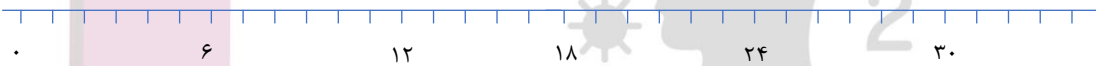
الف) زمان‌های ذکر شده را روی ساعت‌ها و نمودارها نشان دهید.



قبل از ظهر



بعد از ظهر



ب) آن‌ها چه ساعتی به پارک رفتند؟

پ) او چه ساعتی تماشای تلویزیون را شروع کرد؟

۴- برای کسرهای زیر شکل بکشید.

$\frac{3}{4}$	$\frac{2}{6}$	$\frac{5}{5}$
---------------	---------------	---------------

یکشنبه