

### تمرین هفته اول - ریاضی چهارم (یکشنبه)

۱- مطالعه درس نامه صفحه ۵۶

۲- حل سوالات کار در منزل صفحه ۵۶

دختر عزیزم، پسر گلم ☺

سوالات زیر رو در روز مشخص شده حل کنید، از پاسخ خودتون عکس بگیرید و در یکی از پیام‌رسان‌های "بله"، "ایتا" و یا "واتس‌آپ" به شماره ۰۹۱۲۳۴۶۲۷۰۹ ارسال نمایید. (ترجیحا واتس‌آپ ☺)

۱- جاهای خالی را پر کنید.

(الف) سیصد تا هزارتا برابر است با .....

(ب) دویست و سی تا هزارتا برابر است با .....

(پ) هشتصد و سی و پنج هزارتا برابر است با .....

(ت) شش تا ده هزارتا برابر است با .....

۲- با کارت‌های ۲، ۷، ۶، ۹، ۰ عدد‌های خواسته شده را بنویسید.

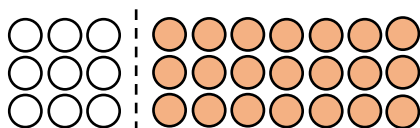
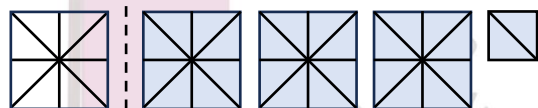
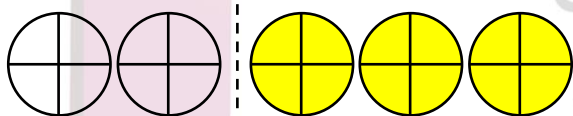
(الف) کوچک‌ترین عدد ۵ رقمی زوج.

(ب) بزرگ‌ترین عدد ۵ رقمی فرد.

(ج) کوچک‌ترین عدد ۳ رقمی فرد.

(د) یک عدد دورقمی که یکان آن ۳ برابر دهگان‌ش باشد.

۳- باتوجه به واحد معرفی شده، عدد هر شکل را بنویسید.



سه شنبه

# خانه ریاضیات غرب تهران

## تحصیلات تحقق رویایی شیرین...



۱- جمعیت کشوری در سال گذشته ۸۵۹۳۲۵۳۶ نفر اعلام شده است. با توجه به این عدد به سوال‌های زیر پاسخ دهید.

(الف) به حروف بنویس.

(ب) یکان میلیون آن چند است؟

(پ) کم‌ترین ارزش مکانی متعلق به کدام رقم است؟

(ت) کدام رقم بیش‌ترین ارزش مکانی را دارد؟

۲- اولین رقم سمت چپ عددی، در مرتبه صدگان میلیون قرار دارد. این عدد چند رقم دارد؟

۳- در جای خالی عدد مناسب بنویسید تا کسرها باهم برابر شوند.

$$\frac{1}{8} = \frac{\square}{48}$$

$$\frac{12}{27} = \frac{\square}{9}$$

$$\frac{15}{20} = \frac{\square}{4}$$

$$\frac{7}{35} = \frac{1}{\square}$$

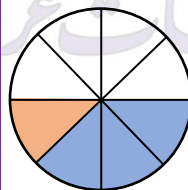
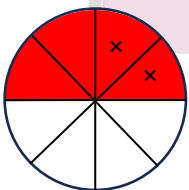
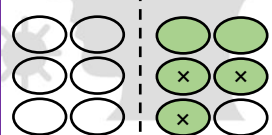
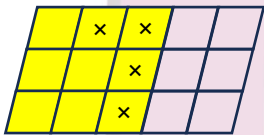
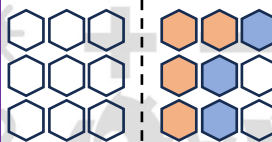
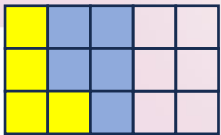
$$\frac{9}{27} = \frac{\square}{9}$$

$$\frac{4}{5} = \frac{\square}{25}$$

$$\frac{36}{48} = \frac{\square}{8}$$

$$\frac{16}{32} = \frac{4}{\square}$$

۴- برای هر شکل جمع یا تفریق بنویسید.



پنج‌شنبه