

خانه ریاضیات غرب تهران

تحصیلات تحقق رویایی شیرین ...



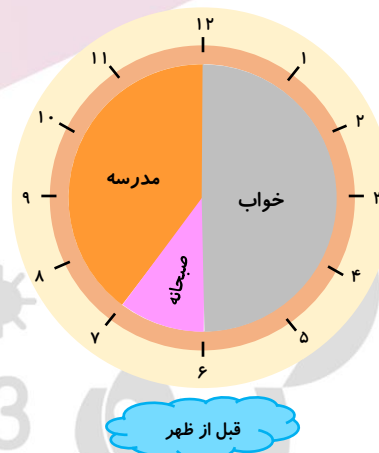
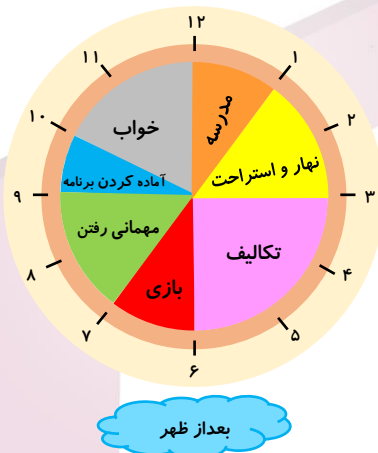
تمرین هفته پنجم - ریاضی سوم (سه‌شنبه)

- ۱- مطالعه درسنامه صفحه ۸۹.
- ۲- حل سوالات کاردرمنزل صفحه ۸۹.
- ۳- مطالعه درسنامه صفحات ۹۰ و ۹۱.
- ۴- حل سوالات ۱ و ۲ کار در منزل صفحه ۹۳.

دختر عزیزم، پسر گلم (ع)

سوالات زیر رو در روز مشخص شده حل کنید، از پاسخ خودتون عکس بگیرید و در یکی از پیام‌رسان‌های "بله"، "ایتا" و یا "واتس‌آپ" به شماره ۰۹۱۲۳۴۶۲۷۰۹ ارسال نمایید. (ترجیحا واتس‌آپ (ع))

۱- کارهایی که کسرا در یک شب و روز انجام داده، روی ساعت‌های زیر مشخص شده است. به سوالات پاسخ دهید.



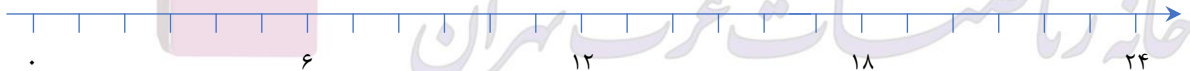
(ب) کسرا چند ساعت در مدرسه بوده است؟

(الف) کسرا در مجموع چند ساعت خوابیده است؟

(پ) کسرا در مجموع چند ساعت را به مهمانی و بازی پرداخته است؟

(ث) یک شبانه روز چند ساعت است؟

(ج) کارهای روز گذشته کسرا را روی خط زمان زیر نمایش دهید.



(چ) کسرا چه ساعتی از مدرسه برگشته است؟ بعد از ظهر یا

(ح) کسرا چه ساعتی شروع به انجام دادن تکالیف کرد؟ بعد از ظهر یا

(خ) کسرا چه زمانی برای خواب به رختخواب رفت؟ بعد از ظهر یا

خانه ریاضیات غرب تهران

تحصیلات تحقق رویایی شیرین...



۱- ابتدا جدول ارزش مکانی را کامل کنید. سپس آن‌ها را به عدد و حروف بنویسید.

یکان	دهگان	صدگان	هزارگان

هزارتایی هزارتایی هزارتایی

یکان	دهگان	صدگان	هزارگان

یک شنبه

۲- عددهای چهار رقمی زیر را بنویسید.

الف) بزرگ‌ترین عدد چهاررقمی با رقم‌های ۲، ۳، ۰ و ۵.

به رقم: به حروف:

ب) کوچک‌ترین عدد چهار رقمی که صدگان آن بزرگ‌ترین عدد یک رقمی باشد.

به رقم: به حروف:

خانه ریاضیات غرب تهران