

خانه ریاضیات غرب تهران

تحصیلات تحقق رویایی شیرین ...



تمرین هفته دوم - ریاضی سوم (سه شنبه)

قابل توجه اولیای محترم، به اطلاع می‌رساند به دلیل تعطیلی روز سه شنبه مورخ ۹ بهمن، ۴ روز تکلیف شبانه در نظر گرفته شده است. لازم به ذکر است کلاس جبرانی این روز در روز شنبه مورخ ۲۵ اسفند ماه برگزار می‌گردد.

۱- مطالعه درسنامه صفحات ۱۲۵ - ۱۲۶ - ۱۲۷

۲- حل کار در منزل صفحه ۱۳۱ سوال ۱

دختر عزیزم، پسر گلم (ع)

سوالات زیر رو در روز مشخص شده حل کنید، از پاسخ خودتون عکس بگیرید و در یکی از پیام‌رسان‌های "تلگرام" و "واتس‌آپ" به شماره ۰۹۱۲۳۴۶۲۷۰۹ ارسال نمایید. (ترجیحا واتس‌آپ (ع))

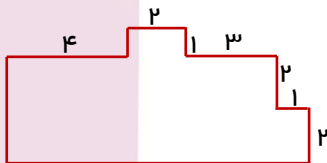
۱- علی هر روز ۶ ساعت درس می‌خواند. او در یک هفته چند ساعت درس می‌خواند؟

۲- در شکل زیر تعداد نیم خط‌ها و پاره خط‌ها را به دست آورید و آن‌ها را بنویسید.

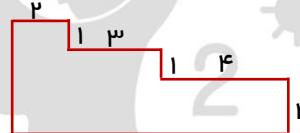


۳- در شکل‌های زیر محیط را به دست آورید.

(الف)



(ب)



پنجشنبه

۱۱/۴

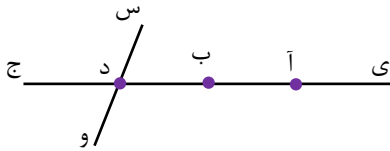
خانه ریاضیات غرب تهران

تحصیلات تحقق رویایی شیرین...



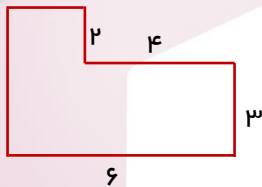
۱- پویان ۹ سال دارد. سن مادر او از ۴ برابر سن پویان ۵ سال بیشتر است. سن مادر پویان را به دست آورید.

۲- در شکل زیر تعداد نیم خط ها و پاره خط ها را به دست آورید و آن ها را بنویسید.

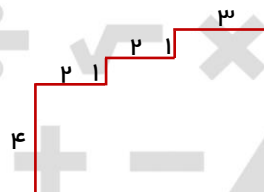


۳- در شکل های زیر محیط را به دست آورید.

(الف)



(ب)



شنبه

۱۱/۶

خانه ریاضیات غرب تهران

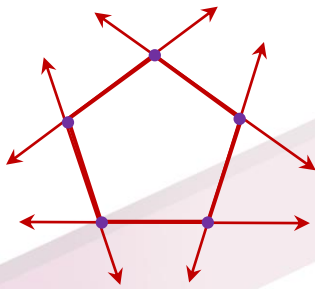
۱- کتابخانه علی ۵ طبقه دارد. ای در هر طبقه ۶ کتاب داستان و ۷ کتاب علمی قرار داده است.

الف) علی در کتابخانه اش چند کتاب داستان دارد؟

ب) او چند کتاب علمی دارد؟

ج) تعداد کل کتاب های او را به دست آورید.

۲- در شکل زیر ۵ خط راست همدیگر را قطع کرده اند.



الف) نقطه ها و خط ها را نامگذاری کنید.

ب) ۲ پاره خط نام ببرید.

ج) ۳ نیم خط نام ببرید.

د) نام پنج ضلعی را بنویسید.

ه) قطر های پنج ضلعی به وجود آمده را رسم کنید.

سه شنبه

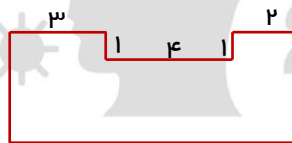
۱۱/۹

۳- در شکل های زیر محیط را به دست آورید.

الف)

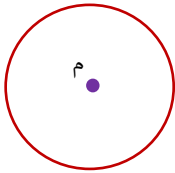


ب)



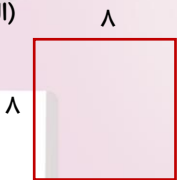
۱- یک باغبان ۸ بوته گل رز و ۳ بوته گل مریم دارد. هر بوته رز ۶ شاخه گل و هر بوته مریم ۴ شاخه گل دارد. این باغبان در مجموع چند شاخه گل دارد؟

۲- نقطه (م) مرکز دایره در شکل زیر است. برای این دایره:
 الف) ۲ شعاع و ۲ قطر رسم کنید.
 ب) آن ها را نامگذاری کنید.
 ج) نام هر یک از دو شعاع و ۲ قطر را بنویسید.

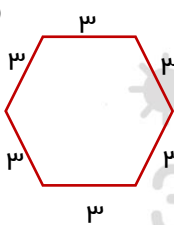


۳- در شکل های زیر محیط را به دست آورید.

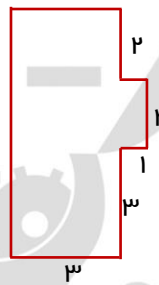
الف)



ب)



ج)



پنجشنبه

۱۱/۱۱