

تمرین هفته اول - ریاضی چهارم (پنجشنبه)

۱- مطالعه درسنامه صفحه ۱۱۳-۱۱۴-۱۱۵-۱۱۶-۱۱۷.

۲- حل قسمت (ح) کار در کلاس صفحه ۱۱۸.

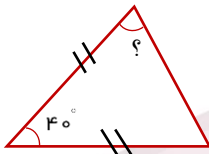
۳- حل سوالات کار در منزل صفحه ۱۱۹.

دختر عزیزم، پسر گلم ☺

سوالات زیر رو در روز مشخص شده حل کنید، از پاسخ خودتون عکس بگیرید و در یکی از پیام‌رسان‌های "بله"، "ایتا" و یا "واتس‌آپ" به شماره **۰۹۱۲۳۴۶۲۷۰۹** ارسال نمایید. (ترجیحا واتس‌آپ ☺)

۱- زاویه های خواسته شده را به دست آورید.

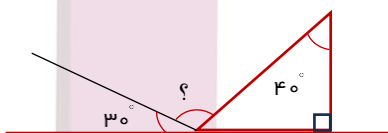
الف)



ب)



ج)



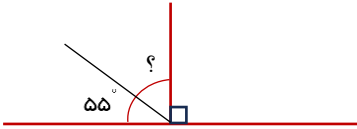
خانه ریاضیات غرب تهران

تحصیلات تحقق رویایی شیرین ...

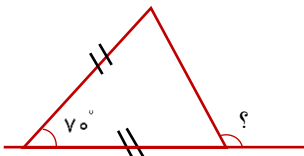


۱- زاویه های خواسته شده را به دست آورید.

الف)

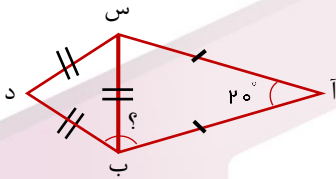


ب)



یکشنبه

ج)



اندازه زاویه "آ ب" د" = ؟

خانه ریاضیات غرب تهران

۴۴۹۶۶۸۶۲

WWW.TEHRANMATH.IR
WWW.TEHRANMATH.COM

۴۴۹۶۶۸۶۳

پیامک: ۰۲۱۴۴۹۶۶۸۶۲

آدرس: فلکه دوم صادقیه - ابتدای محمد علی جناح - نبش کوچه طاهریان سرای محله فردوس - طبقه دوم - خانه ریاضیات غرب تهران