

خانه ریاضیات غرب تهران

تحصیلات تحقق رویایی شیرین ...



تمرین هفته دوم - ریاضی چهارم (پنجشنبه)

۱- مطالعه درسنامه صفحه ۱۲۰ و ۱۲۱

۲- حل سوالات ۱ و ۲ و ۳ و ۴ و ۵ و ۶ صفحه ۱۲۵

دختر عزیزم، پسر گلم ☺

سوالات زیر رو در روز مشخص شده حل کنید، از پاسخ خودتون عکس بگیرید و در یکی از پیام‌رسان‌های "بله"، "ایتا" و یا "واتس‌آپ" به شماره ۰۹۱۲۳۴۶۲۷۰۹ ارسال نمایید. (ترجیحا واتس‌آپ ☺)

۱- اندازه زاویه های خواسته شده را به دست آورید.		
الف)	ب)	ج)
۲- مهلا ساعت ۷:۵۵ از خانه خارج شد و پس از ۳۵ دقیقه به پارک رسید. او چه ساعتی به پارک رسیده است؟		
۳- کسرا مسیر خانه تا مدرسه را در ۳۰ دقیقه طی می‌کند. او برای اینکه ساعت ۸:۱۰ به مدرسه برسد چه ساعتی باید حرکت کند؟		
۴- سعید ۳۰ دقیقه در راه بود تا به سینما رسید. اگر او ۲ ساعت و ۱۵ دقیقه در سینما بماند و ساعت ۲۰:۳۰ از سینما خارج شود، چه ساعتی از خانه به سمت سینما حرکت کرده است؟		

جمعه

۴۴۹۶۶۸۶۲

WWW.TEHRANMATH.IR

WWW.TEHRANMATH.COM

۴۴۹۶۶۸۶۳

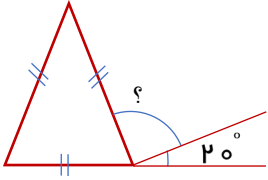
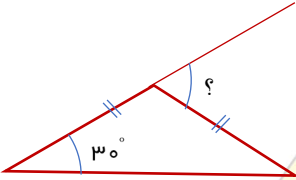

پیامک: ۰۲۱۴۴۹۶۶۸۶۲

آدرس: فلکه دوم صادقیه - ابتدای محمد علی جناح - نبش کوچه طاهریان سرای محله فردوس - طبقه دوم - خانه ریاضیات غرب تهران

خانه ریاضیات غرب تهران

تحصیلات تحقق رویایی شیرین ...



۱- اندازه زاویه های خواسته شده را به دست آورید.		
الف) 	ب) 	ج) 
۲- کوروش ساعت ۲:۴۵ از خانه خارج شد و ساعت ۳:۱۰ به سینما رسید. او چند دقیقه در راه بوده است؟		
۳- سپیده هر روز ساعت ۸:۱۵ دقیقه وارد مدرسه می شود و ساعت ۱۲:۱۰ از مدرسه خارج می شود. او چند ساعت و چند دقیقه در مدرسه است؟		
۴- ۴۵ دقیقه قبل و ۴۵ دقیقه بعد از ساعت ۳:۳۵ را به دست آورید.		

خانه ریاضیات غرب تهران

یکشنبه

۴۴۹۶۶۸۶۲
۴۴۹۶۶۸۶۳

WWW.TEHRANMATH.IR
WWW.TEHRANMATH.COM
پیامک: ۰۲۱۴۴۹۶۶۸۶۲

آدرس: فلکه دوم صادقیه - ابتدای محمد علی جناح - نبش کوچه طاهریان سرای محله فردوس - طبقه دوم - خانه ریاضیات غرب تهران