

تمرین هفته دوم - ریاضی پنجم (دوشنبه)

۱- مطالعه درسنامه صفحه ۱۲۷.

۲- حل سوالات کار در منزل ۱۲۹.

۳- مطالعه درسنامه صفحات ۱۳۷، ۱۳۸ و ۱۳۹.

۴- حل کار در منزل صفحه ۱۴۰.

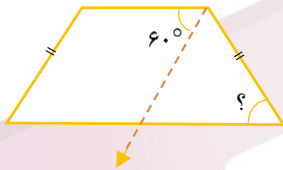
دختر عزیزم، پسر گلم (😊)

سوالات زیر رو در روز مشخص شده حل کنید، از پاسخ خودتون عکس بگیرید و در یکی از پیام‌رسان‌های "بله"، "ایتا"

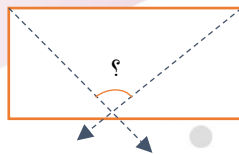
و یا "واتس‌آپ" به شماره **۰۹۱۲۳۳۴۶۲۷۰۹** ارسال نمایید. (ترجیحا واتس‌آپ (😊))

۱- در شکل‌های زیر اندازه‌های خواسته شده را به دست آورید. (خط چین‌ها نیمساز هستند).

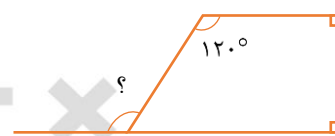
(الف)



(ب)



(ج)



سه شنبه

۲- جاهای خالی را پر کنید.

(الف) عدد یک نشان دهنده چند تا یک دهم ($\frac{1}{10}$) است؟

(ب) دو واحد برابر است با تا $\frac{1}{10}$.

(پ) $\frac{30}{100}$ برابر می‌شود با

(ت) عدد ۵ برابر است با تا $\frac{1}{10}$.

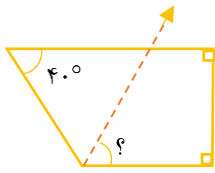
خانه ریاضیات غرب تهران

تحصیلات تحقق رویایی شیرین ...

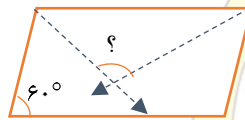


۱- در شکل های زیر اندازه های خواسته شده را به دست آورید. (خط چین ها نیمساز هستند.)

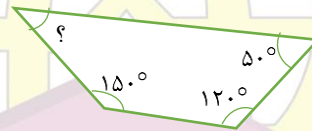
الف)



ب)



ج)



پنجشنبه

۲- جاهای خالی را پر کنید.

الف) $\frac{5}{8}$ چند تا $\frac{1}{10}$ است؟

ب) 48 تا $\frac{1}{10}$ برابر می شود با

پ) $\frac{4}{3}$ چند $\frac{1}{10}$ تا بیشتر از عدد 4 دارد؟

ت) $\frac{6}{8}$ چند تا $\frac{1}{10}$ کمتر از عدد 7 دارد؟

خانه ریاضیات غرب تهران