

### تمرین هفته دوم - ریاضی پنجم (چهارشنبه)

۱- مطالعه درسنامه صفحه ۱۲۷.

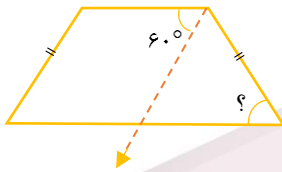
۲- حل سوال ۳ کار در منزل ۱۲۹.

دختر عزیزم، پسر گلم (👧)

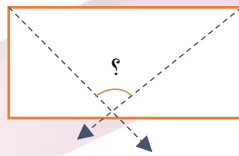
سوالات زیر رو در روز مشخص شده حل کنید، از پاسخ خودتون عکس بگیرید و در یکی از پیام‌رسان‌های "بله"، "ایتا" و یا "واتس‌آپ" به شماره **۰۹۱۲۳۴۶۲۷۰۹** ارسال نمایید. (ترجیحا واتس‌آپ (👤))

۱- در شکل‌های زیر اندازه‌های خواسته شده را به دست آورید. (خط چین‌ها نیمساز هستند).

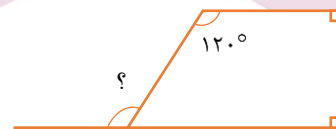
الف)



ب)



ج)



۲- جاهای خالی را پر کنید.

الف) عدد یک نشان دهنده چند تا یک دهم (۰/۱) است؟ .....

ب) دو واحد برابر است با ..... تا ۰/۱.

پ) ۳۰ تا ۰/۱ برابر می‌شود با .....

ت) عدد ۵ برابر است با ..... تا ۰/۱.

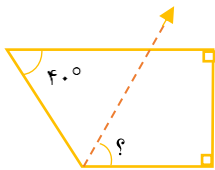
# خانه ریاضیات غرب تهران

## تحصیلات تحقق رویایی شیرین ...

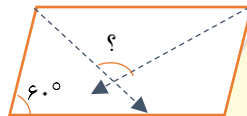


۱- در شکل های زیر اندازه های خواسته شده را به دست آورید. (خط چین ها نیمساز هستند).

الف)



ب)



ج)



یکشنبه

۲- جاهای خالی را پر کنید.

الف)  $\frac{5}{8}$  چند تا  $\frac{1}{10}$  است؟ .....

ب)  $48$  تا  $\frac{1}{10}$  برابر می شود با .....

پ)  $\frac{4}{3}$  چند  $\frac{1}{10}$  تا بیشتر از عدد  $4$  دارد؟

ت)  $\frac{6}{8}$  چند تا  $\frac{1}{10}$  کمتر از عدد  $7$  دارد؟

# خانه ریاضیات غرب تهران

۴۴۹۶۶۸۶۲

WWW.TEHRANMATH.IR  
WWW.TEHRANMATH.COM

۴۴۹۶۶۸۶۳

پیامک: ۰۲۱۴۴۹۶۶۸۶۲

آدرس: فلکه دوم صادقیه - ابتدای محمد علی جناح - نبش کوچه طاهریان سرای محله فردوس - طبقه دوم - خانه ریاضیات غرب تهران