

# خانه ریاضیات غرب تهران

## تحصیلات تحقق رویایی شیرین...



### تمرین هفته سوم - ریاضی سوم (سه‌شنبه)

- ۱- مطالعه درسینامه صفحه ۱۲۷، ۱۲۸ و ۱۲۹  
 ۲- حل کار در منزل صفحه ۱۳۱ سوالات ۲-۳-۴-۵  
 ۳- مطالعه درسینامه صفحه ۱۳۲  
 ۴- حل کار در منزل صفحه ۱۳۶ سوال ۱ قسمت الف و ب  
 دختر عزیزم، پسر گلم (ع)

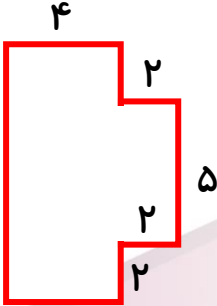
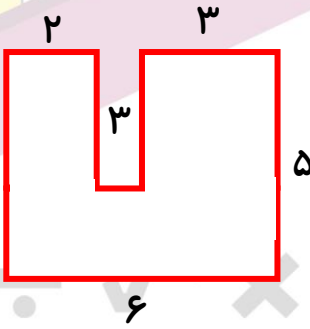
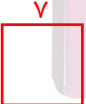

سوالات زیر رو در روز مشخص شده حل کنید، از پاسخ خودتون عکس بگیرید و در یکی از پیام‌رسان‌های "واتس‌آپ" یا "تلگرام" به شماره ۰۹۱۲۳۴۶۲۷۰۹ ارسال نمایید. (ترجیحا واتس‌آپ (ع))

۱- می‌خواهیم سه بسته ۶ تایی شکلات را به طور مساوی در ۲ ظرف تقسیم کنیم. در هر ظرف چند شکلات باید قرار دهیم؟
۲- اگر ۴۰ هزار تومان پول داشته باشیم و بخواهیم همه آن را به اسکناس‌های ۵ هزار تومانی تبدیل کنیم، پول ما تبدیل به چند اسکناس می‌شود؟
۳- حاتم ۶ بسته ۸ تایی گچ آبی و ۵ بسته ۳ تایی گچ قرمز دارد. حاتم روی هم چند گچ دارد؟
۴- ابتدا اندازه ضلع‌هایی که داده نشده است را پیدا کنید. سپس با نوشتن جمع محیط شکل‌ها را به دست آورید.
<div style="display: flex; justify-content: space-around;"> <div style="text-align: center;"> <p>(الف)</p> </div> <div style="text-align: center;"> <p>(ب)</p> </div> </div>
۵- موارد خواسته شده را بنویسید.
<p>محیط مربع:                  مساحت مربع:                  محیط مستطیل:                  مساحت مستطیل:</p>

# خانه ریاضیات غرب تهران

## تحصیلات تحقق رویایی شیرین ...



<p>۱- مهسا ۳۰ سال سن دارد. برادرزاده اش ۵ ساله است. سن مهسا چند برابر سن برادرزاده اش است؟</p>	
<p>۲- کسرا <math>\frac{32}{3}</math> تيله دارد. اگر تيله‌هاى او ۸ برابر تيله‌هاى دوستش باشد، آن‌ها روى هم چند تيله دارند؟</p>	
<p>۳- محمد ۵ تيله دارد. رضا ۲ برابر او و سهيل ۳ تيله کمتر از رضا دارد. آن‌ها روى هم چند تيله دارند؟</p>	
<p>۴- ابتدا اندازه ضلع‌هایی که داده نشده است را پیدا کنید. سپس با نوشتن جمع محیط شکل‌ها را به دست آورید.</p>  <p>(الف)</p>	 <p>(ب)</p> <p>یکشنبه</p>
<p>۵- با قطعه سیمی به طول ۲۰ سانتی‌متر یک مربع ساخته ایم. طول هر ضلع مربع چند سانتی‌متر است؟</p>	
<p>۶- می‌خواهیم دور یک رومیزی مربع شکل به ضلع ۹ سانتی‌متر را روبان بدوزیم. به چند سانتی‌متر روبان احتیاج داریم؟</p>	
<p>۷- موارد خواسته شده را به دست آورید.</p>  <p>محیط مربع:</p> <p>مساحت مربع:</p>	 <p>محیط مستطیل:</p> <p>مساحت مستطیل:</p>