

خانه ریاضیات غرب تهران

تحصیلات تحقق رویایی شیرین...



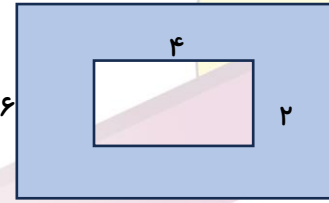
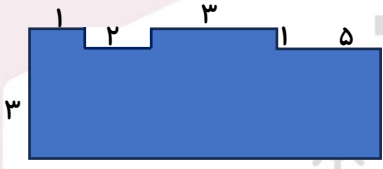
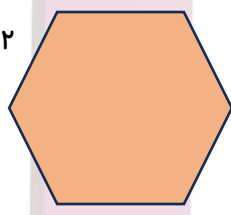
تمرین هفته پنجم - ریاضی سوم ابتدایی

۱- مطالعه درسنامه صفحات ۱۸۳ و ۱۸۴

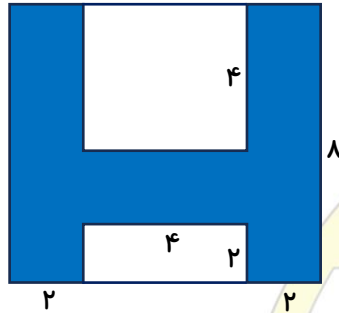
۲- حل سوالات کار در منزل صفحه ۱۸۶ سوالات ۱ و ۲

دختر عزیزم، پسر گلم (ع)

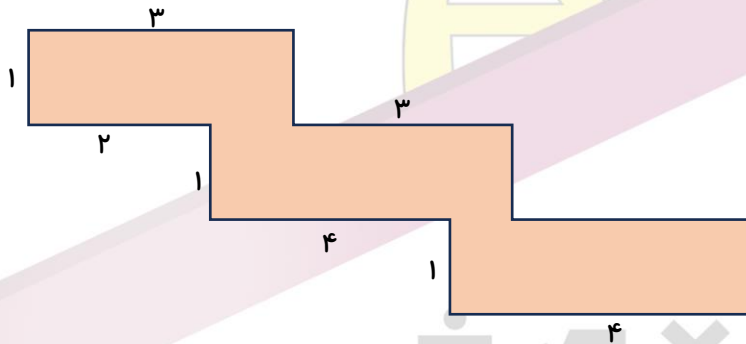
سوالات زیر رو در روز مشخص شده حل کنید، از پاسخ خودتون عکس بگیرید و در یکی از پیام‌رسان‌های "بله"، "ایتا" و یا "واتس‌آپ" به شماره ۰۹۱۲۳۴۶۲۷۰۹ ارسال نمایید. (ترجیحا واتس‌آپ (ع))

<p>۱- مساحت قسمت های رنگ شده را حساب کنید.</p> 	
<p>۲- ابتدا اندازه ضلع‌هایی که داده نشده است را پیدا کنید سپس با نوشتن جمع محیط شکل‌ها را به دست آورید.</p> 	
<p>۳- آقای حاتمی می‌خواهد دور حوض خانه خود را دو ردیف حصار نصب کند. او به چند متر حصار احتیاج دارد؟</p> 	<p>پنج شنبه</p>
<p>۴- محیط یک مربع ۲۴ سانتی‌متر است. مساحت آن را به دست آورید.</p>	

۱- مساحت قسمت های رنگ شده را پیدا کنید.



۲- ابتدا اندازه ضلع هایی که داده نشده است را پیدا کنید سپس با نوشتن جمع محیط شکل ها را به دست آورید.



۳- قاب عکسی به طول ۸ و عرض ۵ سانتی متر داریم. اگر عکسی به طول ۵ و عرض ۳ سانتی متر در وسط آن قاب بگذاریم، چند سانتی متر مربع از دور قاب خالی می ماند؟

۴- مساحت یک مربع ۳۶ سانتی متر مربع است. محیط آن را به دست آورید.