

### تمرین هفته چهارم - ریاضی پنجم (پنجشنبه)

۱- مطالعه درسنامه صفحه ۱۲۷.

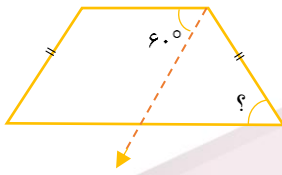
۲- حل سوالات کار در منزل ۱۲۹.

دختر عزیزم، پسر گلم (ع)

سوالات زیر رو در روز مشخص شده حل کنید، از پاسخ خودتون عکس بگیرید و در یکی از پیام‌رسان‌های "واتس‌آپ" "تلگرام" به شماره **۰۹۱۲۳۴۶۲۷۰۹** ارسال نمایید. (ترجیحا واتس‌آپ (ع))

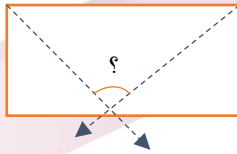
۱- در شکل‌های زیر اندازه‌های خواسته شده را به دست آورید. (خط چین‌ها نیمساز هستند).

(الف)

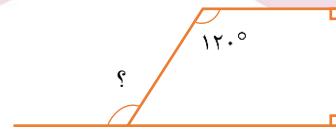


(ب)

چهار ضلعی مستطیل است.



(ج)



سه شنبه

۲- جاهای خالی را پر کنید.

(الف) عدد یک نشان دهنده چند تا یک دهم (۰/۱) است؟ .....

(ب) ۱۸ واحد برابر است با ..... تا ۰/۰۱.

(پ) ۳۰۷ تا ۰/۰۱ برابر می‌شود با .....

(ت) عدد ۵۰۱ برابر است با ..... تا ۰/۰۱.

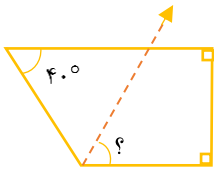
# خانه ریاضیات غرب تهران

## تحصیلات تحقق رویایی شیرین ...

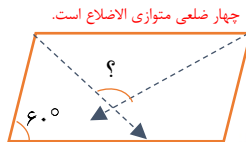


۱- در شکل های زیر اندازه های خواسته شده را به دست آورید. (خط چین ها نیمساز هستند).

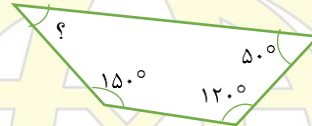
الف)



ب)



ج)



پنجشنبه

۲- جاهای خالی را پر کنید.

الف)  $\frac{5}{8}$  چند تا  $\frac{1}{10}$  است؟ .....

ب)  $1048$  تا  $0.001$  برابر می شود با .....

پ)  $\frac{4}{3}$  چند  $\frac{1}{10}$ ، بیشتر از عدد ۴ دارد؟

ت)  $\frac{6}{8}$  چند تا  $\frac{1}{10}$  کمتر از عدد ۷ دارد؟

# خانه ریاضیات غرب تهران

۴۴۹۶۶۸۶۲

WWW.TEHRANMATH.IR  
WWW.TEHRANMATH.COM

۴۴۹۶۶۸۶۳

پیامک: ۰۲۱۴۴۹۶۶۸۶۲

آدرس: فلکه دوم صادقیه - ابتدای محمد علی جناح - نبش کوچه  
طاهریان سرای محله فردوس - طبقه دوم - خانه ریاضیات غرب تهران