

### تمرین هفته هشتم - ریاضی چهارم (پنجشنبه)

۱- مطالعه درسنامه ۱۷۱-۱۷۲-۱۷۳-۱۷۴-۱۷۵

۲- حل کار در منزل صفحه ۱۷۷

۳- مطالعه درسنامه صفحه ۱۷۸-۱۷۹-۱۸۰-۱۸۱

۴- حل کار در منزل صفحه ۱۸۱

دختر عزیزم، پسر گلم ☺

سوالات زیر رو در روز مشخص شده حل کنید، از پاسخ خودتون عکس بگیرید و در یکی از پیام‌رسان‌های "بله"، "ایتا" و یا "واتس‌آپ" به شماره ۰۹۱۲۳۴۶۲۷۰۹ ارسال نمایید.

۱- جاهای خالی را با اعداد مناسب پر کنید.

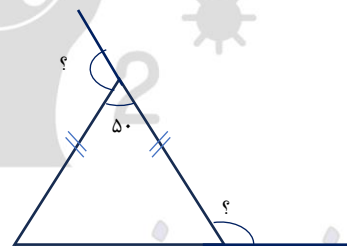
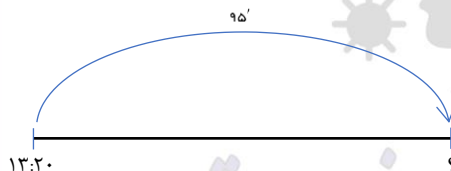
ب) ۳۷ برابر است با  $\frac{\dots}{10}$

الف)  $\frac{1}{6} + 4\frac{1}{2} - 1\frac{4}{10} = \square$

ج) ۱۴۸ تا  $\frac{0}{1}$  برابر است با .....

۲- علامت سوال را به دست آورید.

جمعه



۳- ۴۲۷۸ ثانیه چند ساعت و چند دقیقه و چند ثانیه است؟

# خانه ریاضیات غرب تهران

## تحصیلات تحقق رویایی شیرین...



۱- جاهای خالی را با اعداد مناسب پر کنید.

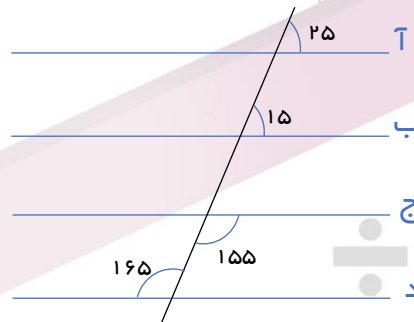
الف)  $17/4$  سانتی‌متر برابر است با  $1/1$  سانتی‌متر

ب)  $246$  میلی‌متر برابر است با  $1/1$  سانتی‌متر یعنی ..... سانتی‌متر

ج)  $53$  سانتی‌متر برابر است با  $1/1$  سانتی‌متر یعنی ..... میلی‌متر

۲- کدام یک از دو خط زیر موازی‌اند؟

یکشنبه



۳- شهریار در ساعت  $17:20$  برای خرید نان از خانه خارج شد و در ساعت  $18:35$  به خانه برگشت. اون چند ساعت خارج از خانه بود؟

# خانه ریاضیات غرب تهران

۴۴۹۶۶۸۶۲

WWW.TEHRANMATH.IR  
WWW.TEHRANMATH.COM

۴۴۹۶۶۸۶۳

پیامک: ۰۲۱۴۴۹۶۶۸۶۲

آدرس: فلکه دوم صادقیه - ابتدای محمد علی جناح - نبش کوچه طاهریان سرای محله فردوس - طبقه دوم - خانه ریاضیات غرب تهران