

### تمرین هفته هشتم - ریاضی پنجم (پنجشنبه)

۱- مطالعه درسنامه صفحات ۱۵۴ و ۱۵۵ و ۱۵۶.

۲- حل کار در منزل صفحه ۱۵۸.

**آزمون کلاسی از مباحث اعشار، زاویه و محیط دایره در جلسه آینده (روز پنجشنبه مورخ ۲۳ اسفند) گرفته خواهد شد!**  
لازم به ذکر است دانش آموزانی که در این آزمون نمره کامل بگیرند جایزه نقدی دریافت خواهند کرد. \$\$\$🤝\$\$\$

دختر عزیزم، پسر گلم 🤝

سوالات زیر رو در روز مشخص شده حل کنید، از پاسخ خودتون عکس بگیرید و در یکی از پیام‌رسان‌های "واتس‌آپ" و یا "تلگرام" به شماره **۰۹۱۲۳۴۶۲۷۰۹** ارسال نمایید. (ترجیحا واتس‌آپ 🤝)

<p>الف)</p>	<p>۱- حجم شکل داده شده را به دست آورید. (اندازه‌ها بر حسب سانتی‌متر می‌باشد).</p>
<p>ب)</p>	<p>۲- حجم شکل داده شده را به دست آورید. (اندازه‌ها بر حسب سانتی‌متر می‌باشد).</p>
	<p>۳- طول، عرض و ارتفاع یک قالب پنیر مستطیل شکل ۸، ۶ و ۵ سانتی‌متر است. حجم آن چقدر است؟ در یک جعبه بزرگ با ابعاد ۱۶، ۱۲ و ۱۵ سانتی‌متر چند قالب پنیر می‌توانیم جا بدهیم؟</p>

جمعه

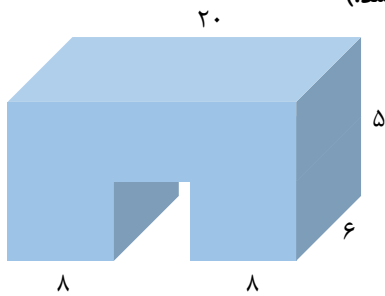
# خانه ریاضیات غرب تهران

## تحصیلات تحقق رویایی شیرین...



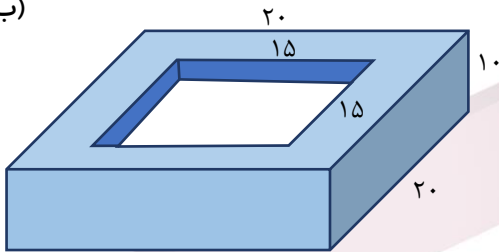
۱- حجم شکل داده شده را به دست آورید. (اندازه‌ها بر حسب سانتی‌متر می‌باشد.)

(الف)




۲- حجم شکل داده شده را به دست آورید. (اندازه‌ها بر حسب سانتی‌متر می‌باشد.)

(ب)



۳- یک جعبه مستطیل شکل، با ۴۸ چینه مکعب شکل به ضلع ۲ سانتی‌متر پر شده است. حجم جعبه را حساب کنید.



یکشنبه

# خانه ریاضیات غرب تهران