

تمرین هفته هفتم - ریاضی پنجم (چهارشنبه)

۱- مطالعه درسنامه صفحات ۱۵۴ و ۱۵۵ و ۱۵۶.

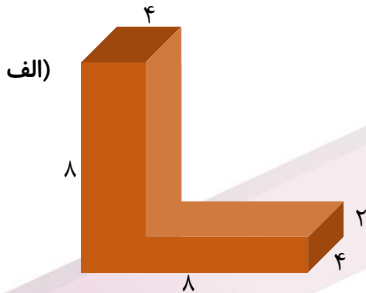
۲- حل کار در منزل صفحه ۱۵۸.

آزمون کلاسی از مباحث اعشار، زاویه و محیط دایره در جلسه آینده (روز چهارشنبه مورخ ۲۲ اسفند) گرفته خواهد شد!
لازم به ذکر است دانش آموزانی که در این آزمون نمره کامل بگیرند جایزه نقدی دریافت خواهند کرد. \$\$\$🤝\$\$\$

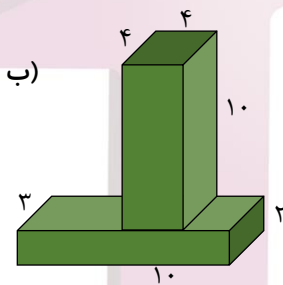
دختر عزیزم، پسر گلم 🤝

سوالات زیر رو در روز مشخص شده حل کنید، از پاسخ خودتون عکس بگیرید و در یکی از پیام‌رسان‌های "بله"، "ایتا" و یا "واتس‌آپ" به شماره **۰۹۱۲۳۳۴۶۲۷۰۹** ارسال نمایید. (ترجیحا واتس‌آپ 🤝)

۱- حجم شکل داده شده را به دست آورید. (اندازه‌ها بر حسب سانتی‌متر می‌باشد).



۲- حجم شکل داده شده را به دست آورید. (اندازه‌ها بر حسب سانتی‌متر می‌باشد).



۳- طول، عرض و ارتفاع یک قالب پنیر مستطیل شکل ۸، ۶ و ۵ سانتی‌متر است. حجم آن چقدر است؟ در یک جعبه بزرگ با ابعاد ۱۶، ۱۲ و ۱۵ سانتی‌متر چند قالب پنیر می‌توانیم جا بدهیم؟



جمعه

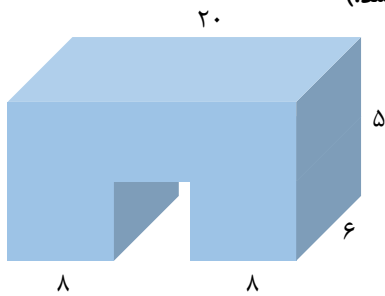
خانه ریاضیات غرب تهران

تحصیلات تحقق رویایی شیرین...



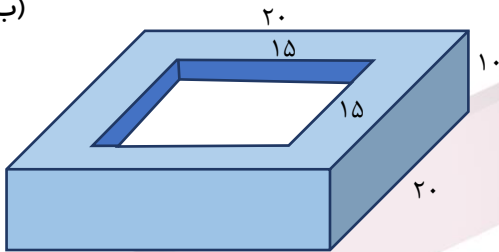
۱- حجم شکل داده شده را به دست آورید. (اندازه‌ها بر حسب سانتی‌متر می‌باشد).

(الف)




۲- حجم شکل داده شده را به دست آورید. (اندازه‌ها بر حسب سانتی‌متر می‌باشد).

(ب)



۳- یک جعبه مستطیل شکل، با ۴۸ چینه مکعب شکل به ضلع ۲ سانتی‌متر پر شده است. حجم جعبه را حساب کنید.

یکشنبه



خانه ریاضیات غرب تهران

۴۴۹۶۶۸۶۲

WWW.TEHRANMATH.IR

WWW.TEHRANMATH.COM

۴۴۹۶۶۸۶۳

پیامک: ۰۲۱۴۴۹۶۶۸۶۲

آدرس: فلکه دوم صادقیه - ابتدای محمد علی جناح - نبش کوچه
طاهریان سرای محله فردوس - طبقه دوم - خانه ریاضیات غرب تهران