

تمرین هفته اول - ریاضی سوم (یکشنبه)

۱- مطالعه درسنامه صفحه ۱۳۲، ۱۳۳، ۱۳۴.

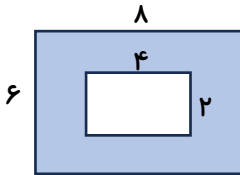
۲- حل کار در منزل صفحه ۱۳۶ و ۱۳۷.

دختر عزیزم، پسر گلم (۱۶)

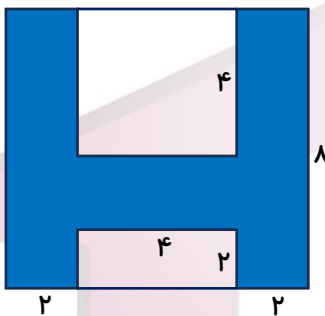
سوالات زیر رو در روز مشخص شده حل کنید، از پاسخ خودتون عکس بگیرید و در پیام رسان "واتس آپ" به شماره ۰۹۱۲۳۴۶۲۷۰۹ ارسال نمایید. (در صورت قطع بودن واتس آپ تمرین ها را در کلاس به معلم تحویل دهید.)

اولیای گرامی، این شماره صرفاً جهت ارسال تکالیف می باشد.

۱- مساحت قسمت های رنگ شده را حساب کنید.

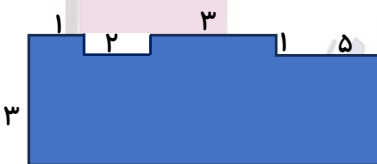


۲- مساحت قسمت های رنگ شده را پیدا کنید.



۳- محیط یک مربع ۲۴ سانتی متر است. مساحت آن را به دست آورید.

۴- ابتدا اندازه ضلع هایی که داده نشده است را پیدا کنید سپس با نوشتن جمع محیط شکل ها را به دست آورید.



جمعه

۳/ بهمن