

# خانه ریاضیات غرب تهران

## تحصیلات تحقق رویایی شیرین...



### تمرین هفته دهم - ریاضی چهارم ابتدایی

۱- مطالعه درسنامه صفحات ۱۹۲ و ۱۹۳.

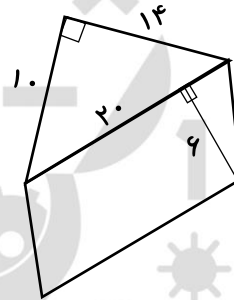
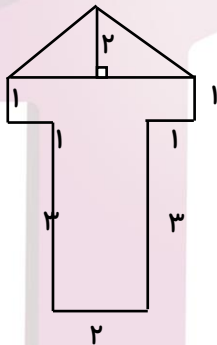
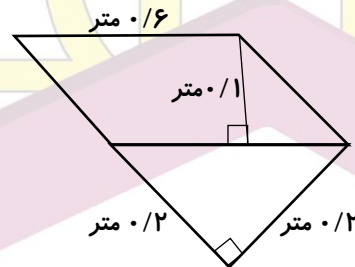
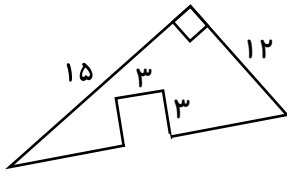
۲- حل کار در منزل صفحه ۱۹۵.

دختر عزیزم، پسر گلم ☺

سوالات زیر رو در روز مشخص شده حل کنید، از پاسخ خودتون عکس بگیرید و در پیام رسان "بله" به شماره

۰۹۱۲۳۴۶۲۷۰۹ ارسال نمایید.

۱- مساحت شکل های زیر را به دست آورید.



جمعه  
۰۴ / اردیبهشت

۲- در اتاقی که کف آن به شکل مستطیل است. فرش پهن کرده ایم که از لبه ها تا دیوار ۰/۵ متر فاصله دارد. اگر طول اتاق ۴/۵ و عرض آن ۳/۵ متر باشد مساحت فرش چند سانتی متر مربع است؟



۴۴۹۶۶۸۶۲

WWW.TEHRANMATH.IR

WWW.TEHRANMATH.COM

۴۴۹۶۶۸۶۳

پیامک: ۰۲۱۴۴۹۶۶۸۶۲

آدرس: فلکه دوم صادقیه - ابتدای محمد علی جناح - نبش کوچه طاهریان سرای محله فردوس - طبقه دوم - خانه ریاضیات غرب تهران