

# خانه ریاضیات غرب تهران

## تحصیلات تحقق رویایی شیرین ...



### تمرین هفته هشتم - ریاضی چهارم

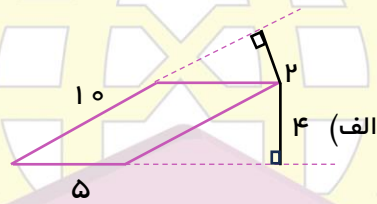
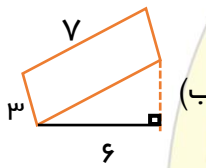
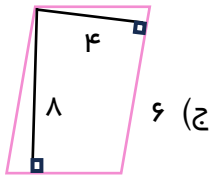
۱- مطالعه درسامه صفحه ۱۹۲، ۱۸۸، ۱۸۵

۲- حل کار در منزل صفحه ۱۹۰، ۱۸۷، و سوال ۱ صفحه ۱۹۵.

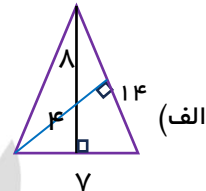
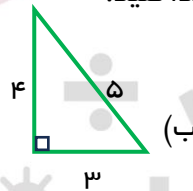
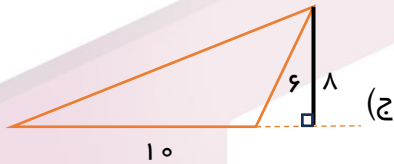
دختر عزیزم، پسر گلم ☺

سوالات زیر رو در روز مشخص شده حل کنید، از پاسخ خودتون عکس بگیرید و در پیام رسان "بله" به شماره ۰۹۱۲۳۴۶۲۷۰۹ ارسال نمایید.

۱- مساحت متوازی الاضلاع های زیر را به دست آورید.



۲- مساحت مثلث های داده شده را پیدا کنید.



۳- مساحت شکل های زیر را به دو طریق حساب کنید.

